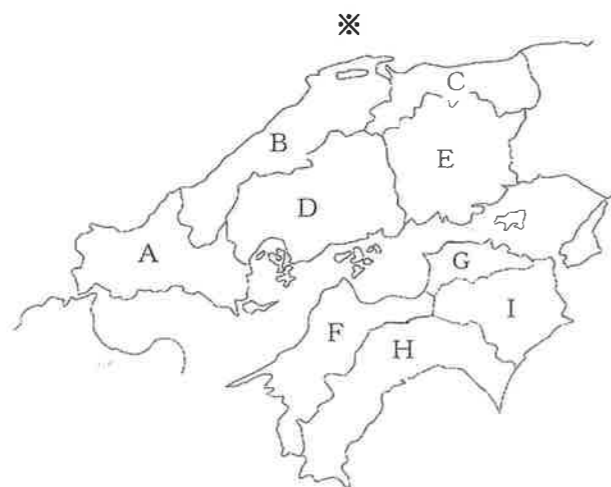


1 下の中国・四国地方の地図を見て、あとの問いに答えなさい。



(1) 地図中 A・D・F の県の県庁所在都市の名前を、解答らんに合うようにそれぞれ答えなさい。

(2) 地図中 B や C の県の北側に広がる※の海の名前を、解答らんに合うように答えなさい。

(3) 日本で登録されている世界遺産のうち、中国・四国地方に位置しないものを次の ア～エ から1つ選び、記号で答えなさい。

ア. 原爆ドーム	イ. 石見銀山遺跡とその文化的景観
ウ. 厳島神社	エ. 屋久島

(4) 本州四国連絡橋の1つで、道路と鉄道の併用ルートになっている、地図中 E と G との間に架かる橋の総称を何と言いますか。次の ア～エ から1つ選び、記号で答えなさい。

ア. 瀬戸内しまなみ海道	イ. 明石海峡大橋	ウ. 瀬戸大橋	エ. 大鳴門橋
--------------	-----------	---------	---------

(5) 日本三大暴れ川の1つに数えられ、別名「四国三郎」ともよばれる、おもに地図中 H から I にかけて流れる河川の名前を、解答らんに合うように答えなさい。

(6) 次の文章は、ある地形についての説明です。この地形がある県を地図中 A～I から1つ選び、記号で答えなさい。

日本を代表する海岸砂丘で、「すりばち」と呼ばれるくぼ地の地形や、風紋などが見られる雄大で美しい砂丘です。1955年に国の天然記念物に指定されています。

2 次の各問いに答えなさい。

(1) 下の ①～③ の説明にあてはまる国を、下の ア～オ から1つずつ選び、記号で答えなさい。

- ① 世界で2番目に人口が多く、約80%の人がヒンドゥー(ヒンズー)教徒である。言語は公用語のヒンディー語のほかにも多くの言語が使われている。
- ② 18世紀後半に世界に先がけて産業革命がおこった国で、イングランド、ウェールズ、スコットランド、北アイルランドの4つの地方から成り立っている。
- ③ アボリジニとよばれる先住民が数万年前から居住し、羊毛の生産がさかんな国である。また、石炭や鉄鉱石などの資源が豊富で、日本も多く輸入している。

ア. フランス イ. オーストラリア ウ. イギリス
 エ. インド オ. メキシコ

(2) 次の表は、2015年から2019年の日本の貿易輸出額と貿易輸入額を示しています。輸出することで受け取る金額が、輸入して支払う金額より多くなることを「貿易黒字」といい、その反対の状態を「貿易赤字」といいます。これをふまえて、次の表について説明した下の ア～エ のうち、正しく説明している文を1つ選び、記号で答えなさい。

年度	輸出額(億円)	輸入額(億円)
2015年	756,139	784,055
2016年	700,358	660,420
2017年	782,865	753,792
2018年	814,788	827,033
2019年	769,317	785,995

(『2021 日本のすがた「日本国勢図絵」ジュニア版 改訂第52版』を参考に作成)

- ア. 2015年から2019年まで、「貿易黒字」が続いている。
- イ. 2015年に「貿易赤字」となった以外は「貿易黒字」である。
- ウ. 「貿易黒字」となったのは、2016年と2017年である。
- エ. 2015年から2019年まで、「貿易赤字」が続いている。

(3) 2015年に国際連合で採択されたSDGsでは、2030年までに達成すべき17の目標がかかげられています。次の①と②のそれぞれの文にあてはまる最も適切な目標を、下の3つのイラストから選び、イラストの左上に書かれている数字で答えなさい。

- ① 災害が多く、長年防災に取り組んでいる日本は、これまで開発したさまざまな技術や仕組み、経験を少しでも世界の自然災害の被害の減少に役立てていくために、防災に関する国際協力を活発に行っている。
- ② JICA(国際協力機構)は、妊娠中や出産時の母子や子どもの成長・健康の状態を記録するために日本で使われている「母子手帳」を、世界の母子の命と健康を守るために、発展途上国にも広める活動をしている。



(4) 次の表は、地球温暖化問題の原因となる二酸化炭素(CO₂)の排出量を国別に示しており、図中ア～エは、インド・アメリカ合衆国・中国・ロシアのいずれかにあたります。このうち、中国にあてはまるものをア～エから1つ選び、記号で答えなさい。

	二酸化炭素(CO ₂)排出量(百万t)			1人あたり二酸化炭素排出量(t)		
	1971年	1990年	2018年	1971年	1990年	2018年
ア	789	2,122	9,571	0.93	1.86	6.84
イ	4,289	4,803	4,921	20.65	19.20	15.03
EU	—	4,024	3,151	—	8.42	6.14
ウ	181	530	2,308	0.32	0.61	1.71
エ	—	2,164	1,587	—	14.59	10.99
日本	751	1,054	1,081	7.15	8.53	8.55
世界計	13,946	20,516	33,513	3.71	3.88	4.42

(『2021 日本のすがた「日本国勢図絵」ジュニア版 改訂第52版』を参考に作成)

3 日本国憲法と大日本帝国憲法について、次の問いに答えなさい。

(1) 下の **X** の文章を読んで、あとの ①～④ の問いに答えなさい。

X：第二次世界大戦が終わると、日本では食料や物資が不足し、国民の生活はたいへん苦しかった。そうしたなかで、日本国憲法は誕生した。日本国憲法は 1946 年（ A ）に公布され、そして、1947 年（ B ）に施行された。翌日の東京・銀座では、日本国憲法の施行を祝う「花電車」が走り、大勢の人でにぎわった。

- ① 上の文中の空らん（ A ）と（ B ）には、何月何日という月日があてはまりますか。解答らんに合うようにそれぞれ数字で答えなさい。
- ② 上の文中の下線部に関連して、明治時代に発布された大日本帝国憲法の内容として間違っているものを次の ア～エ から 1 つ選び、記号で答えなさい。

ア. 欽定憲法 イ. 天皇主権 ウ. 戦争放棄 エ. 兵役の義務

- ③ 大日本帝国憲法の草案作成の中心となり、のちに初代内閣総理大臣となった人物の名前を漢字で答えなさい。
- ④ 大日本帝国憲法が発布された翌年、日本で初めての選挙が行われました。次の文はその時の選挙権の条件について述べたものです。文中の空らん（ C ）と（ D ）にあてはまる数字をそれぞれ答えなさい。

直接国税を（ C ）円以上おさめている、満（ D ）歳以上の男子

(2) 下の **Y** の文章を読んで、あとの問いに答えなさい。

Y：日本国憲法の三大原理（三大原則）は（ E ）、（ F ）の尊重、（ G ）である。このことは日本国憲法の前文で強く宣言されており、それぞれの原理は相互に関連している。例えば、独裁的な政治のもとでは（ F ）の尊重が完全に保障されることはなく、（ E ）を原理とした民主主義制のもとで初めて（ F ）が保障され、（ E ）も国民がすべて平等に人間として尊重されて初めて成立する。

上の文中の空らん（ E ）（ F ）（ G ）にあてはまるものを、次の ア～ウ から 1 つずつ選び、記号で答えなさい。なお、同じ記号のところは同じものがあてはまります。

ア. 平和主義 イ. 国民主権 ウ. 基本的人権

次のページからは選択問題です。

歴史分野の 4、または 公民分野の 5 のどちらか 1 つだけを選択し、解答用紙の解答らんを間違わないように答えなさい。

※歴史分野を選択する場合は、7・8 ページの 4 について答えなさい。

この場合、解答用紙は 4 の解答らんを使い、
公民分野の 5 の解答らんには何も書かず、空らんのままでかまいません。


※公民分野を選択する場合は、9・10 ページの 5 について答えなさい。

この場合、解答用紙は 5 の解答らんを使い、
歴史分野の 4 の解答らんには何も書かず、空らんのままでかまいません。

解答らんの記入の仕方について、分からないことや不安なことがあれば、手をあげて、監督の先生にたずねなさい。

4 次の【資料1】・【資料2】を見て、あとの問いに答えなさい。

【資料1】：現在、発行されている一万円券（一万円札）＜2004年11月1日発行開始＞



表




裏

【資料2】：過去に発行された一万円券（一万円札）＜1986年1月4日支払停止＞



表



裏

（国立印刷局のホームページ：「お札の基本情報」より引用）＜2022年1月2日時点＞

(1) 【資料1】(表)に描かれている人物は、明治時代に活躍した福沢諭吉です。福沢諭吉と明治時代に関する次の①～③の問いに答えなさい。

- ① 福沢諭吉の著書で、人間の平等や学問の大切さを説いた作品の名前を答えなさい。
- ② 明治時代における殖産興業の政策のため、1872年に群馬県につくられた官営模範工場を何というか、解答らんには合うように漢字2字で答えなさい。
- ③ 次の明治時代の出来事ア～ウについて、おこった時期の古い順に並べかえ、解答らんには合うように記号で答えなさい。
ア. 新橋・横浜間に鉄道が開通した。
イ. 日露戦争が起こった。
ウ. 日清戦争が起こった。

(2) 【資料1】(裏)には、^{びょうどういんほうおうどう}平等院鳳凰堂の鳳凰像が描かれています。^{びょうどういんほうおうどう}平等院鳳凰堂が建立された平安時代に関する次の①～③の問いに答えなさい。

- ① 宇治（京都府）に^{びょうどういんほうおうどう}平等院鳳凰堂を建てた藤原道長の子の名前を答えなさい。
- ② 藤原道長の娘につかえた女流作家で、『源氏物語』の作者でもある人物の名前を漢字で答えなさい。
- ③ 平安時代、桓武天皇が東北地方の^{えみし}蝦夷を平定するために征夷大將軍に任命した人物を次のア～エから1つ選び、記号で答えなさい。

ア. 平清盛 イ. 菅原道真 ウ. 源頼朝 エ. 坂上田村麻呂

(3) 【資料2】(表)に描かれている人物は、聖徳太子（厩戸王）です。聖徳太子に関する次の①～③の問いに答えなさい。

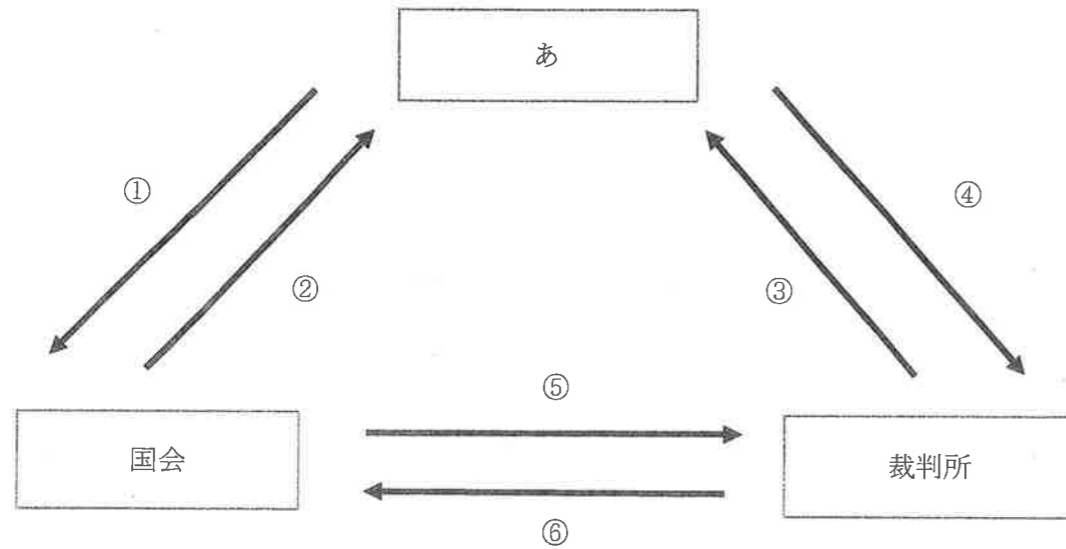
- ① 聖徳太子が604年に制定した、役人が守るべき心構えなどを示したものを答えなさい。
- ② 聖徳太子が、遣隋使として隋に派遣した人物として正しいものを、次のア～エから1つ選び、記号で答えなさい。

ア. 鑑真 イ. 小野妹子 ウ. 行基 エ. 阿倍仲麻呂

③ 聖徳太子の死後におこった、大化の改新に関する次の文を読み、空らん【1】にあてはまる年代を数字で答え、また、空らん【2】にあてはまる語句を答えなさい。

【1】年、中大兄皇子と中臣鎌足が【2】氏を滅ぼし、大化の改新とよばれる政治改革を行った。

5 日本の三権分立を示している下の図や基本的人権について、あとの問いに答えなさい。



(1) 三権分立について、上の図中の空らん **あ** にあてはまる機関の名前を、漢字で答えなさい。

(2) 上の図中の空らん **あ** に関連して、菅義偉に代わり、新たに日本の総理大臣に就任した人物を次の ア～エ から1つ選び、記号で答えなさい。

- ア. 安倍晋三 イ. 岸田文雄 ウ. 麻生太郎 エ. 吉田茂

(3) 上の図中の国会に関連して、現在、国会において、衆議院で最も多くの議席を占めている政党を次の ア～エ から1つ選び、記号で答えなさい。

- ア. 自由民主党 イ. 立憲民主党 ウ. 日本維新の会 エ. 公明党

(4) 上の図中の裁判所に関連して、裁判を慎重かつ公正に行うため、一つの事件につき原則として3度まで裁判を受けることのできる制度を何といいますか。解答らんには合うように答えなさい。

(5) 次の ア と イ は、三権分立において各機関が持つ権限ですが、左の図中のどの矢印にあてはまりますか。図中 ①～⑥ から1つずつ選び、番号で答えなさい。

- ア. 違憲立法審査権
イ. 衆議院の解散の決定

(6) 国民に保障されている基本的人権について、次の ① と ② の文は、下の語群 ア～エ のどの権利にあてはまりますか。最も適切なものを下の ア～エ から1つずつ選び、記号で答えなさい。

- ① 刑事事件の裁判において無罪となり、国に対して補償をもとめた。
② 最高裁判所の裁判官が適任かどうかを、国民が投票によって審査できる。

- ア. 自由権 イ. 平等権 ウ. 参政権 エ. 請求権

(7) 下の文は基本的人権の一つである社会権のうち、生存権について規定されている、日本国憲法の第25条の条文の一部です。条文中の空らん【1】と【2】にあてはまる語句をそれぞれ漢字で答えなさい。

すべて国民は、健康で【1】的な【2】の生活を営む権利を有する。